

"به نام خدا"

نام و نام خانوادگی:

<آموزش و پرورش شهرستان گلوگاه> آزمون مداد کاغذی درس: ریاضی

پایه: دوم دبستان

دبستان دخترانه غیردولتی گل یاس

تاریخ: ۱۴۰۱/۲/۲۸

آموزگار: خانم قلعه سری

سال تحصیلی: ۱۴۰۰-۱۴۰۱

مدت آزمون: ۶۰ دقیقه

۱- عزیزم! الگوها را ادامه دهید.

۶۸-۷۰-.....-.....-.....

۶۵۰-۶۵۵-۶۶۰-.....-.....-.....

۸۹۰-۹۰۰-۹۱۰-.....-.....-.....

۱۰-۱۲-۱۵.....-.....-.....

۲- داخل شکل عدد مناسب را بنویسید و جای خالی را کامل کنید.

= ۹۰۰ + ۴۰ + ۵

۳۸۰ =

+ ۲۸ = ۷۰

۷۵ - = ۵۳

۳- گلم! حاصل جمع و تفریق های زیر را به روش خواسته شده ، به دست آورید.

روش فرآیندی

روش تکنیکی

۴۵۲

۷۶۹

۶۴۷

۵۰۰

+ ۳۱۶

- ۲۵۷

+ ۲۴۹

- ۲۴۶

نام و نام خانوادگی:

دبستان دخترانه غیردولتی گل یاس

پایه: دوم دبستان

آموزگار: خانم قلعه سری

آزمون مداد کاغذی درس: ریاضی

اردیبهشت ماه ۱۴۰۱

۴ - دخترم! علامت $< = >$ قرار دهید.

$$۲۶۵ \quad \square \quad ۲۵۶$$

$$۱۰۰+۱۰۰+۹۰ \quad \square \quad ۱۰۰+۲۰۰$$

$$۳۷ \quad \square \quad ۳۶+۱$$

$$۵۰۰-۲۰۰ \quad \square \quad ۴۰۰-۱۰۰$$

۵ - با استفاده از خط کش طول خط های زیر را اندازه بگیرید . و جاهای خالی را کامل کنید.

طول این خط سانتی متر و میلی متر است.

طول این خط سانتی متر و قسمت از قسمت مساوی است.

۶ - نازنینم! به سوالات زیر پاسخ دهید.

الف) اولین عدد فرد بعد از ۳۵ چند است؟

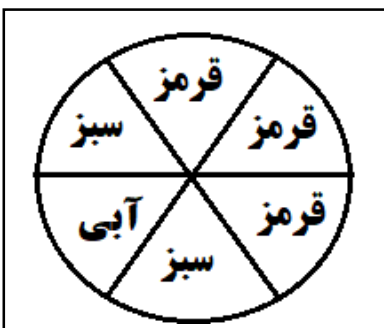
ب) اولین عدد زوج بعد از ۶۹۴ چه عددی است؟

ج) با رقم های ۳، ۴، ۵، کوچکترین عدد فرد سه رقمی را بساز.

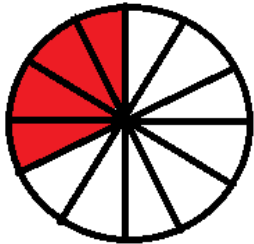
۷ - یک صفحه چرخنده مثل شکل زیر رنگ شده است.

الف) قسمت از قسمت شکل ، قرمز است.

ب) احتمال ایستادن عقربه روی کدام رنگ کمتر است؟ چرا؟

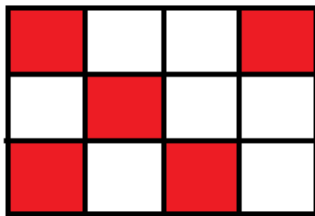


۸- دلبندم! به شکل‌ها نگاه کنید و جاهای خالی را کامل کنید.



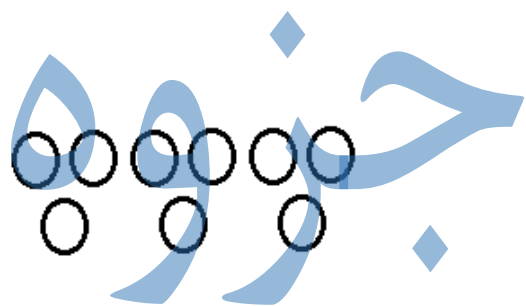
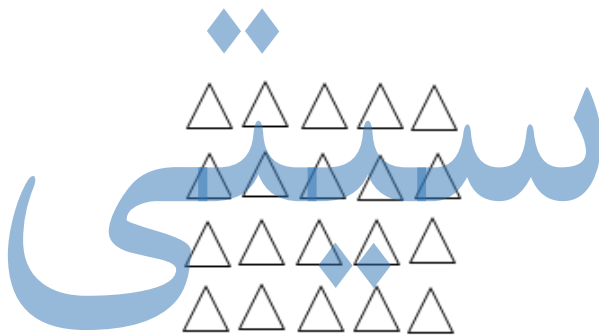
..... قسمت از قسمت مساوی رنگ شده است.

..... قسمت از قسمت مساوی رنگ شده است.



..... قسمت از قسمت مساوی رنگ شده است.

..... قسمت از قسمت مساوی رنگ شده است.



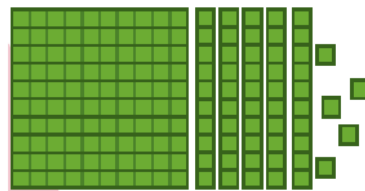
..... دسته ی تایی

..... دسته ی تایی

۹- جدول را کامل کنید و به عدد و حروف بنویسید.



ص	د	ی



ص	د	ی

..... به عدد:

..... به عدد:

..... به حروف:

..... به حروف:

نام و نام خانوادگی:

دبستان دخترانه غیردولتی گل یاس

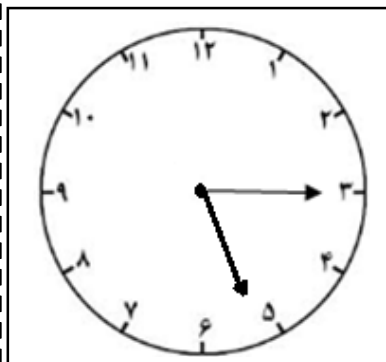
پایه: دوم دبستان

آموزگار: خانم قلعه سری

آزمون مداد کاغذی درس: ریاضی

اردیبهشت ماه ۱۴۰۱

۱۰ - الف) ساعت چند است؟



..... :

.....

ب) عقربه ی بزرگ چند دقیقه حرکت کند تا ساعت یک ربع مانده به ۶ شود؟

۱۱ - رضا یک دفتر به قیمت ۵۶۲ ریال و یک مداد ۲۶۴ ریال خرید . او ۹۵۰ ریال به فروشنده داد.

الف) رضا چند ریال خرج کرد؟

ب) رضا چند ریال باید از فروشنده پس بگیرد؟

بازخورد آموزگار برای من:

موفق باشید - قلعه سری

"به نام خدا"

نام و نام خانوادگی: <آموزش و پرورش شهرستان گلوگاه> آزمون مداد کاغذی درس: ریاضی

پایه: دوم دبستان *دبستان دخترانه غیردولتی گل یاس* تاریخ: ۱۴۰۱/۲/۲۸

آموزگار: خانم قلعه سری سال تحصیلی: ۱۴۰۰-۱۴۰۱ مدت آزمون: ۶۰ دقیقه

-۱

۶۸-۷۰-۷۲-۷۴-۷۶

۶۵۰-۶۵۵-۶۶۰-۶۶۵-۶۷۰-۶۷۵

۸۹۰-۹۰۰-۹۱۰-۹۲۰-۹۳۰-۹۴۰

۱۰-۱۲-۱۵-۱۹-۲۴-۳۰

-۲

جزوه سیتی

$945 = 900 + 40 + 5$

$380 = 300 + 80$

$42 + 28 = 70$

$75 - 22 = 53$

-۳

روش فرآیندی

روش تکنیکی

۴۵۲

۷۶۹

۶۴۷

۵۰۰

+ ۳۱۶

- ۲۵۷

+ ۲۴۹

- ۲۴۶

۷۶۸

۵۱۲

۸۹۶

۲۵۴

نام و نام خانوادگی:

دبستان دخترانه غیردولتی گل یاس

پایه: دوم دبستان

آموزگار: خانم قلعه سری

آزمون مداد کاغذی درس: ریاضی

اردیبهشت ماه ۱۴۰۱

۴ - دخترم! علامت $< > =$ قرار دهید.

$$265 \quad \boxed{>} \quad 256$$

$$100+100+90 \quad \boxed{<} \quad 100+200$$

$$37 \quad \boxed{=} \quad 36+1$$

$$500-200 \quad \boxed{=} \quad 400-100$$

۵ -

طول این خط ۸ سانتی متر و ۹ میلی متر است.

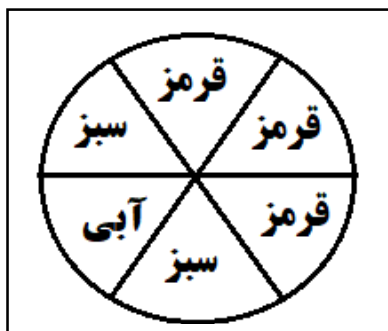
طول این خط ۶ سانتی متر و ۲ قسمت از ۱۰ قسمت مساوی است.

۶ - الف) ۳۷

ب) ۶۹۶

ج) ۳۴۵

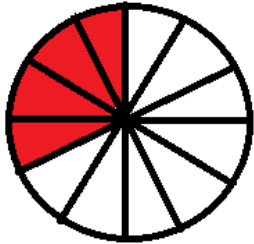
۷ -



الف) ۳ قسمت از ۶ قسمت شکل، قرمز است.

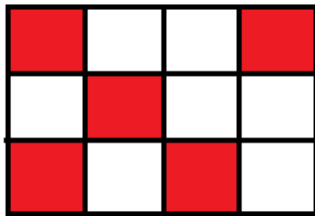
ب) آبی - زیرا تعداد قسمت های رنگ آبی، کمتر است.

۸ -



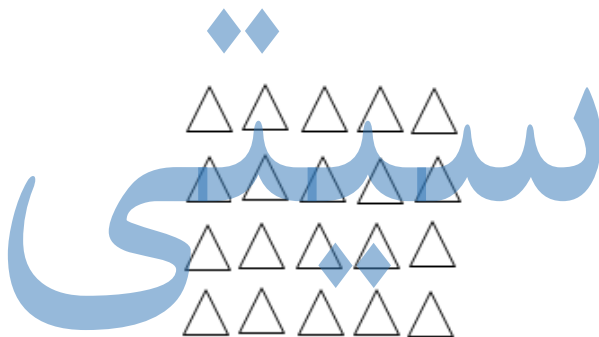
۴ قسمت از ۱۲ قسمت مساوی رنگ شده است.

۸ قسمت از ۱۲ قسمت مساوی رنگ نشده است.

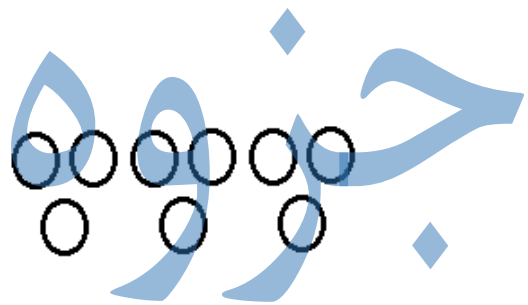


۵ قسمت از ۱۲ قسمت مساوی رنگ شده است.

۷ قسمت از ۱۲ قسمت مساوی رنگ نشده است.



۴ دسته ی ۵ تایی




۳ دسته ی ۳ تایی

۹ -



به عدد: ۳۵۲

به حروف: سیصد و پنجاه و دو



به عدد: ۱۵۵

به حروف: صد و پنجاه و پنج

نام و نام خانوادگی:

دبستان دخترانه غیردولتی گل یاس

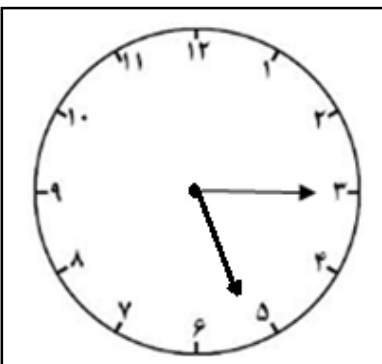
پایه: دوم دبستان

آموزگار: خانم قلعه سری

آزمون مداد کاغذی درس: ریاضی

اردیبهشت ماه ۱۴۰۱

۱۰ - الف)



۵:۱۵

پنج و ربع

ب) ۳۰ دقیقه یا نیم ساعت

۱۱- الف) رضا ۸۲۶ ریال خرج کرد.

جزوه سیپی

۵۶۲

+۲۶۴

۸۲۶

ب) رضا ۱۲۴ ریال باید از فروشنده پس بگیرد.

۹۵۰

-۸۲۶

۱۲۴

موفق باشید - قلعه سری